

اندازه گیری سطح

مبحث

130 - 121

صفحه کتاب درسی

شماره جلسه: شانزدهم

نام درس و مقطع و رشته: ریاضی ششم ابتدایی

تاریخ جلسه:

نام دبیر: مهسا نوریخس

نام دوره: تابستان

نام آموزشگاه: روش

تمرین از کتاب های درسی، آبی، پرتکرار و تابستان

نام کتاب

			ص 108	ص 107	ص 106	ص 105	کار	ص 123	درسی	برای کلاس دبیر و کار در کلاس
					ص 112	ص 111	ص 110	ص 109	کار	برای کار در منزل

مقایسه و اندازه گیری سطح:

کیلومتر مربع

مترمربع

دسی مترمربع

سانتی مترمربع

میلی مترمربع

تمرین: باجدول تناسب تبدیل واحدهای زیر را انجام دهید.

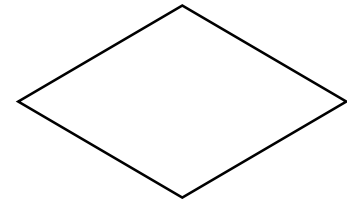


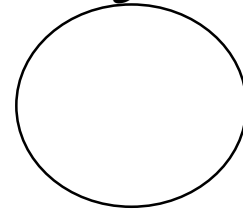
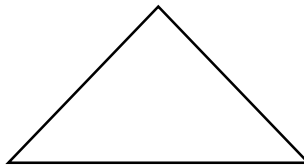
8520 دسی متر مربع = ..... متر مربع

0/21 متر مربع = ..... سانتی متر مربع

8/21 سانتی متر مربع = ..... دسی متر مربع

3/21 دسی متر مربع = ..... سانتی متر مربع

مساحت اشکال هندسی:



تمرین: مساحت قسمت های هاشور خورده را به دست آورید.

