

تمرین از کتاب های درسی، آبی، پرتکرار و تابستان							نام کتاب		
					ص 32	کتاب کار	ص 23	کتاب درسی	برای کلاس دبیر و کار در کلاس
						36 و 35	34 و 33	کتاب کار	برای کار در منزل

نمایش جمع و تفریق اعداد اعشاری روی محور:

_____ → $2/3 + 1/4 =$
تمرین: جمع و تفریق های زیر را روی محور نشان دهید.

_____ → $3/9 - 1/7 =$

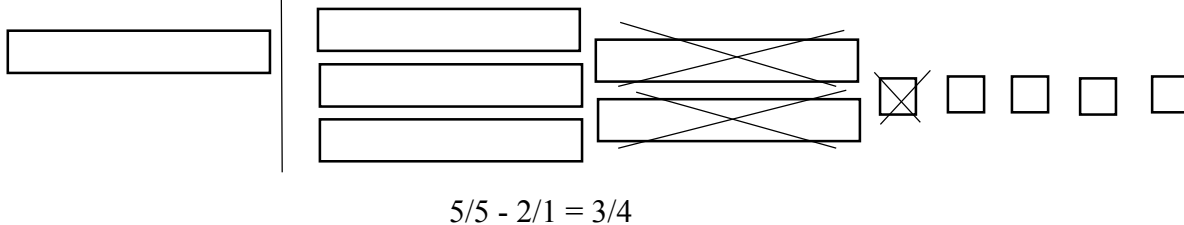
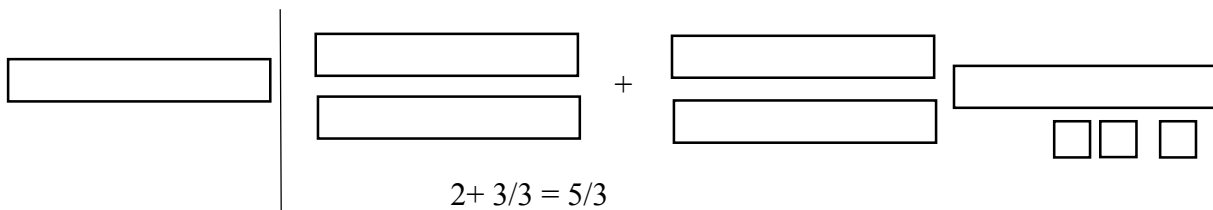
_____ → $1/7 - 1/4 =$

_____ → $3/2 - 1/6 =$


_____ → $2/2 + 1/9 =$

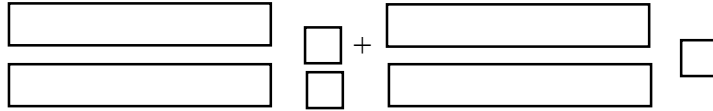

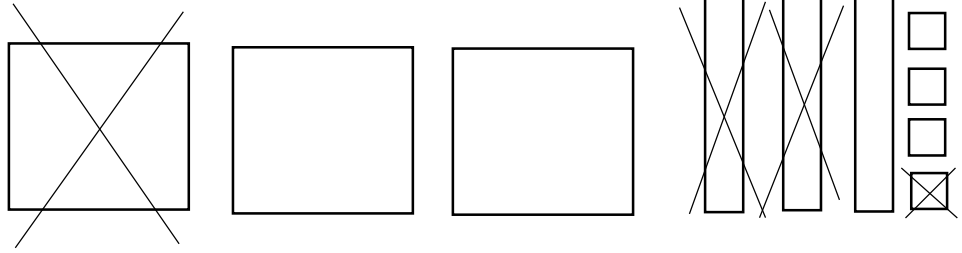
_____ → $1/4 + 0/4 =$

انجام جمع و تفریق به کمک شکل:

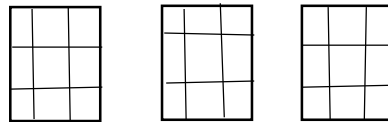




تمرین: برای هر یک از شکل های زیر یک جمع یا تفریق بنویسید.





ضرب های اعشاری:



طریقه ی محاسبه ی حاصل ضرب های اعشاری بدون شکل :

$$3/1 \times 0/5 = 3 \frac{1}{10} \times \frac{5}{10} = \frac{31}{10} \times \frac{5}{10} = \frac{31}{20}$$

تمرین: حاصل ضرب های زیر را محاسبه کنید.

$$0/6 \times 0/7 =$$

$$0/4 \times 0/007 =$$

$$7/4 \times 1/2 =$$

$$31/2 \times 2/1 =$$

$$1/4 \times 2/1 =$$