

نام دبیر: مهسا نوربخش

نام دوره:

نام آموزشگاه: روش

شماره جلسه: هجدهم

نام درس و مقطع و رشته: ریاضی پنجم دبستان

تاریخ جلسه:

تخمین-مساحت لوزی و دوزنقه

مبحث

صفحه‌ی کتاب درسی

تمرین از کتاب های درسی، آبی، پر تکرار و تابستان

نام کتاب

برای کلاس دبیر و کار در کلاس

برای کار در منزل

مساحت:

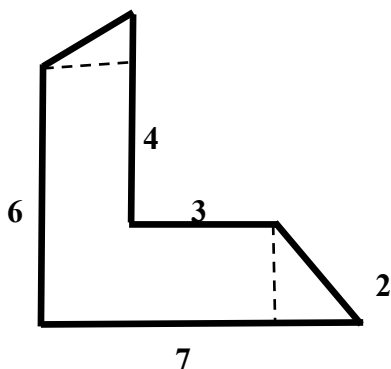
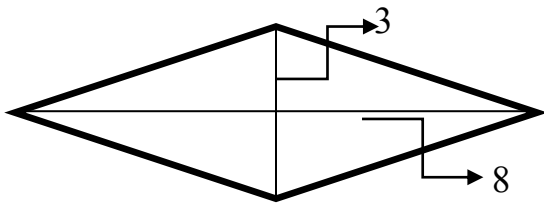
مساحت لوزی: (قطر کوچک \times قطر بزرگ) $\div 2$

مساحت دوزنقه: (مجموع دو قاعده \times ارتفاع) $\div 2$

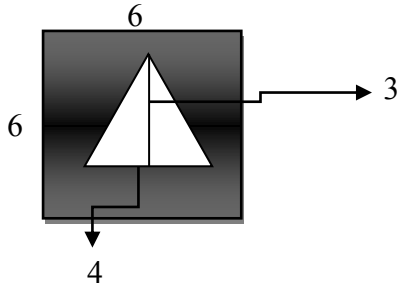
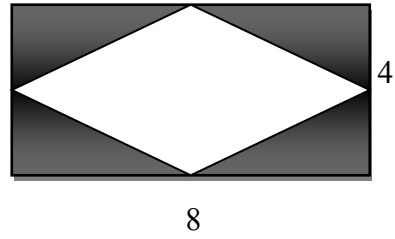
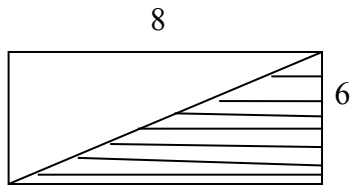
(کوچک و بزرگ جمع میشه تو ارتفاع ضرب می شه تقسیم بر 2 میشه) 😊☺

مساحت مستطیل: (طول + عرض) $\times 2$

تمرین: مساحت هر یک از شکل های زیر را به دست آورید.



تمرین: در هر شکل مساحت قسمت هاشورخورده را به دست آورید.



تمرین: زمینی است به شکل ذوزنقه که قاعده ی بزرگ آن 600 متر و قاعده ی کوچک آن 400 متر و ارتفاع آن 200 متر، مساحت این زمین چند هکتار است؟