

مبحث: چهار ضلعی ها و مجموع زاویه های آن ها

صفحه کتاب درسی:

نام درس: ریاضی
مقطع و رشته: پنجم دبستان
شماره جلسه: پانزدهم

نام دبیر: مهسا نوربخش
نام آموزگار:
نام دوره:

تمرین از کتاب های درسی، آبی، پر تکرار و تابستان






نام کتاب

برای کلاس دبیر و کار در کلاس

برای کار در منزل

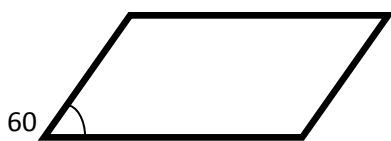
چهار ضلعی ها:

تمرین: جدول زیر را کامل کنید.

چهار ضلعی ها					
					
					تعداد زاویه های راست
					تعداد زاویه های باز
					ضلع های روبرو موازیند
					زاویه های روبرو مساویند
					همه اضلاع برابرند
					تعداد خط های تقارن
					قطر ها یکدیگر را نصف می کنند

نکته: مجموع زاویه های هر چهار ضلعی 360 درجه است.

تمرین: در شکل های زیر اندازه بقیه زاویه ها را به دست آورید.



تمرین: در کدام شکل، نیم ساز زاویه یک خط تقارن است؟



تمرین: کدام یک از دسته اعداد زیر، زاویه های یک چهارضلعی را نشان می دهند؟ سپس نوع چهارضلعی را مشخص کنید.

ب) 70،70،90،120

الف) 90،90،90،90

د) 40،60،40،60

ب) 120،60،60،120