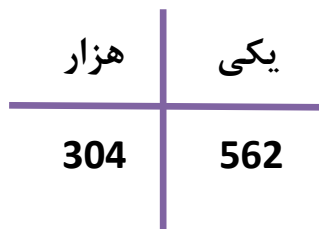


تمرین از کتاب های درسی، آبی، پر تکرار و تابستان										نام کتاب
							7ص	6ص	درسی:ص:4	برای کلاس دبیر و کار در کلاس
							10ص	5ص	درسی:ص:3	برای کار در منزل

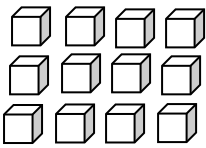
عدد نویسی: برای خواندن و نوشتن اعداد ابتدا سه رقم سه رقم از سمت راست جدا کرده و بعد با توجه به ارزش مکانی هر طبقه و هر رقم، از سمت چپ، هر رقم را می خوانیم و به حروف می نویسیم



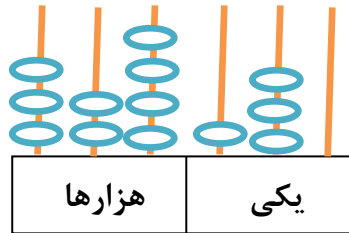
مثال: عدد 304،562 به حروف خوانده می شود:

سیصد و چهار هزار و پانصد و شصت و دو

تمرین: با توجه به شکل ها، عدد مربوطه را به رقم و حروف بنویسید. (هر مکعب نشان دهنده عدد 1000 است)



..... به رقم



..... به رقم

..... به حروف

..... به حروف

تمرین: عدد دویست و چهل و هفت هزار و پانصد و سی و نه را در یک جدول ارزش مکانی نشان دهید.

تمرین: با توجه به عدد 465798 به سوالات زیر پاسخ دهید:

رقم دهگان هزار آن چند است؟

بزرگ ترین رقم در چه مرتبه ای قرار دارد؟

در کم ترین مرتبه، چه رقمی قرار دارد؟

در بیش ترین مرتبه، چه رقمی قرار دارد؟

تمرین: عددهای مورد نظر را بنویسید.

کوچک ترین عدد شش رقمی:

بزرگ ترین عدد چهار رقمی بدون تکرار:

کوچک ترین عدد سه رقمی با رقم های 7،0،5 :

بزرگ ترین عدد پنج رقمی با رقم های 3،4،2،0،8 :

الگویابی: الگوها رابطه هایی هستند که بین عددها یا شکل ها وجود دارند. در الگویابی باید رابطه ها را کشف کنیم و الگو را ادامه دهیم.

تمرین: الگوهای زیر را ادامه دهید و رابطه ی بین عددها را بنویسید.

45 40 35 30

32 16 8

نکته: در الگوها، گاهی می توان رابطه ی بین عددهای الگو را به شکل های مختلف بیان کرد.

تمرین: با توجه به راهنمای داده شده، الگو را کامل کنید.

3 7 11

$(4 \times 1) - 1$ $(4 \times 2) - 1$ $(4 \times 3) - 1$