

نمودار

مبحث

123 تا 129

صفحه‌ی کتاب درسی

شماره جلسه: هجدهم

نام درس و مقطع و رشته: ریاضی سوم دبستان

تاریخ جلسه:

نام دبیر: مهسا نوربخش

نام دوره:

نام آموزشگاه: روش

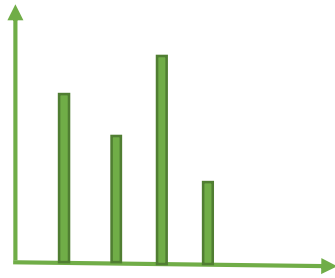
تمرین از کتاب های درسی، آبی، پرتکرار و تابستان

نام کتاب

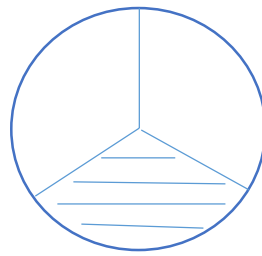
| | | | | | | | | | | |
|--|--|--|--|--|--|-------|-------|-------|------|------------------------------|
| | | | | | | 129 ص | 126 ص | 124 ص | درسی | برای کلاس دبیر و کار در کلاس |
| | | | | | | 128 ص | 127 ص | 125 ص | درسی | برای کار در منزل |

نمودار:


برای آن که اطلاعات را سریع تر و راحت تر بفهمیم و بیشترین و کمترین مقدارها را پیدا کنیم، از نمودارهای مختلفی استفاده می‌کنیم. انتخاب نمودار مناسب، یک مهارت مناسب است.



نمودار میله ای یا ستونی



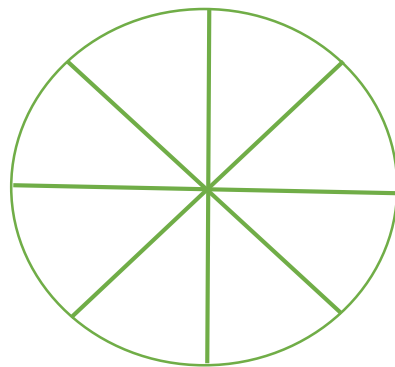
نمودار دایره ای



نمودار تصویری

تمرین: تعداد دانش آموزانی که در تابستان به شهرهای مختلف سفر کرده اند، در جدول زیر مشخص شده است:

| | | | | | | |
|-------|-------|--------|-------|------|-------|-----|
| شهر | تبریز | اصفهان | شیراز | مشهد | همدان | یزد |
| تعداد | 5 | 10 | 5 | 5 | 10 | 5 |
| رنگ | بنفش | صورتی | آبی | قرمز | زرد | سبز |



اگر هر قسمت نشان دهنده 5 نفر باشد، با رنگ کردن، وضعیت شهرهایی که این دانش آموزان به آن جا سفر کرده اند را نشان دهید.

تمرین: تعداد کتاب های علمی و داستانی پربیناز در زیر نوشته شده است.

😊 این اطلاعات را در دو نمودار دایره ای و ستونی نشان دهید.

😊 به نظر شما کدام نمودار مناسب تر است؟ چرا؟

پربیناز: داستانی 20 علمی 30

