

## تمرین از کتاب های درسی، آبی، پر تکرار و تابستان

نام کتاب

							۹۲ ص	۸۹ ص	درسی	برای کلاس دبیر و کار در کلاس
							۹۳ ص	۹۰ ص	درسی	برای کار در منزل

## مساحت:

به اندازه ی سطح هر شکل، مساحت آن شکل می گویند.  
واحد سطح، مربعی به ضلع یک سانتی متر است.

## مساحت:


اندازه یک ضلع  $\times$  خودشطول  $\times$  عرض

تمرین: مساحت شکل های زیر را مانند نمونه به دست آورید.



۵س

$$5 \times 5 = 25$$



۵س

۸س

.....



۷س

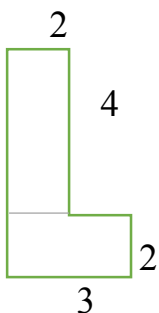
.....



۹س

۳س

.....



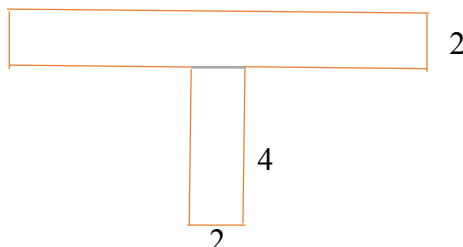
.....

.....

.....

تمرین: مساحت شکل های زیر را به دست آورید.

6



2

4

2

.....

.....

.....

مسأله: مساحت مستطیلی 48 سانتی متر است. اگر طول آن 8 سانتی متر باشد، عرض آن چند سانتی متر است؟