

تمرین از کتاب های درسی، آبی، پرتکرار و تابستان

نام کتاب

								85ص	درسی	برای کلاس دبیر و کار در کلاس	
								86ص	87ص	درسی	برای کار در منزل

محیط:

به اندازه ی دور تا دور هر شکل محیط آن شکل می گویند.

برای اندازه گیری محیط هر شکل، کافی است تا همه ی ضلع های دور آن را اندازه گرفته و عددهای به دست آمده را با هم جمع کنیم.

تمرین: با خط کش اندازه ی ضلع ها را به سانتی متر پیدا کرده و محیط هر شکل را به دست آورید.

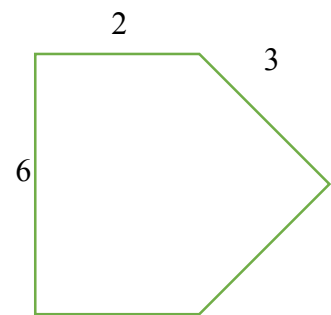
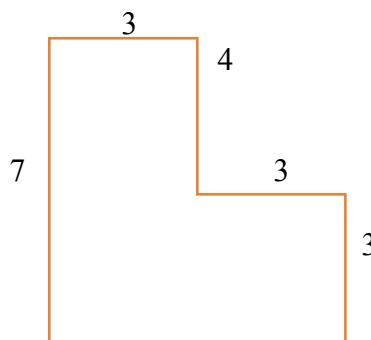
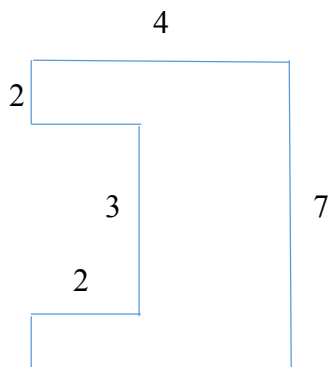


.....

.....

.....

تمرین: محیط هر یک از شکل های زیر را به دست آورید.



.....

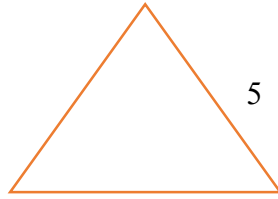
.....

.....

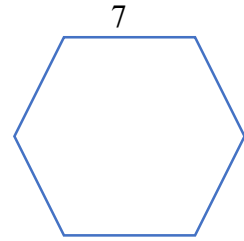
تمرین: مانند نمونه با کمک ضرب محیط شکل های زیر را به دست آورید.



$$4 \times 6 = 24$$



.....



.....

مساله: طول باغ مستطیل شکل 54 متر و عرض آن 20 متر است. اگر بخواهیم دورتادور این زمین را دیوار بکشیم،

چند متر دیوار باید بکشیم؟

محیط:

اندازه ی یک ضلع $4 \times$



$2 \times (\text{طول} + \text{عرض})$

